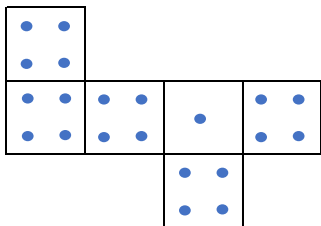
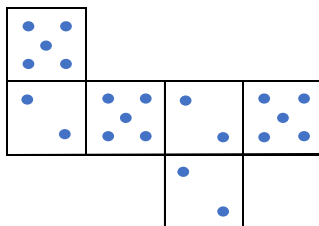


2人でさいころ A, B, C のどれか1つずつ選び、これを投げて出た目の数の大小で勝敗を決めます。できるだけ勝つためにあなたはどのように選びますか？

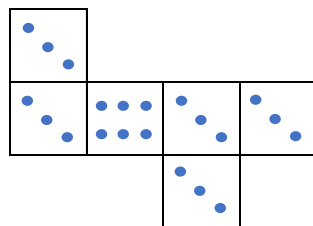
【さいころA】



【さいころB】



【さいころC】



vs


【わかったこと】

\_\_\_\_ vs \_\_\_\_ の対戦で

\_\_\_\_ が勝つ確率は \_\_\_\_ であり、

\_\_\_\_ が勝つ確率は \_\_\_\_ である。

よって \_\_\_\_\_。