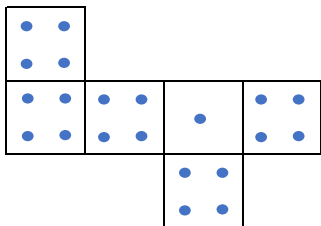
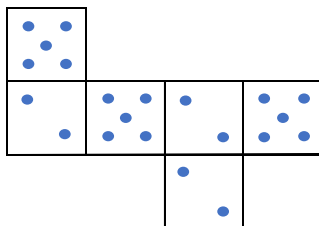


2人でさいころ A, B, C のどれか1つずつ選び、これを投げて出た目の数の大小で勝敗を決めます。できるだけ勝つためにあなたはどのように選びますか？

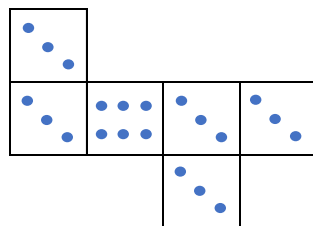
【さいころA】



【さいころB】



【さいころC】



vs

\						

【わかったこと】

____ vs ____ の対戦で

____ が勝つ確率は ____ であり、

____ が勝つ確率は ____ である。

よって _____。